

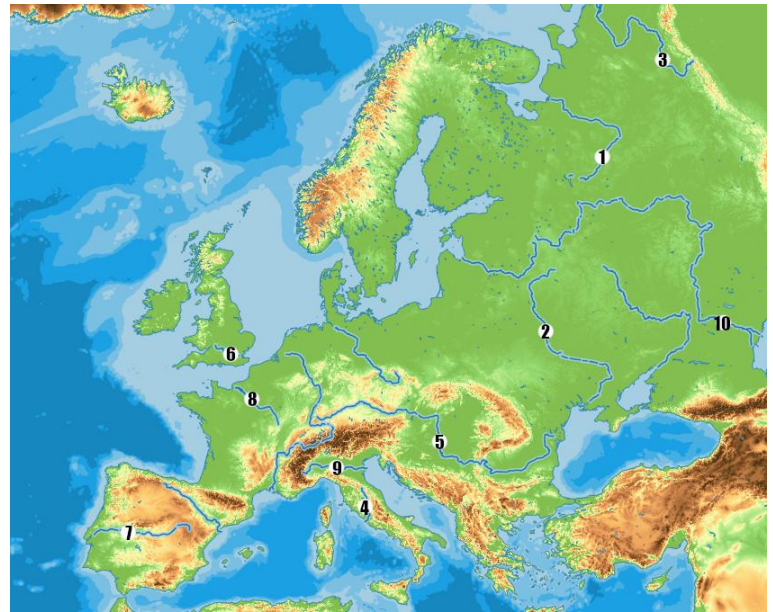
Fișă de lucru Hidrografia Europei/României

Subiectul I. Citiți cu atenție enunțurile următoare și încercuiți varianta corectă de răspuns:

1. Cel mai lung fluviu european se numește:
a. Volga b. Nipru c. Tamisa d. Dunărea
2. Cele mai mari debite ale râurilor din România se înregistrează:
a. iarna b. primăvara c. vara d. toamna
3. Finlanda este o țară ocupată într-un procent însemnat de lacuri:
a. vulcanice b. glaciare de calotă c. tectonice d. de acumulare
4. Curenții de suprafață din Marea Neagră sunt cauzati de:
a. diferențele de salinitate b. diferențele de temperaturi c. mișcări tectonice d. vânturi
5. Dunărea este unită printr-un celebru canal de fluviu:
a. Ron b. Don c. Tibru d. Rin

Subiectul II. Analizați harta alăturată și precizați:

1. Numele fluviilor marcate cu numere de la 1 la 10;
2. Numele a două fluvii reprezentate pe hartă, care traversează Câmpia Nord-Europeană;
3. Numărul cu care este marcat fluviul ce traversează Câmpia Panonică;
4. Numele mării în care se varsă fluviul marcat cu numărul 8;
5. Numărul cu care este marcat fluviul situat într-o zonă endoreică;

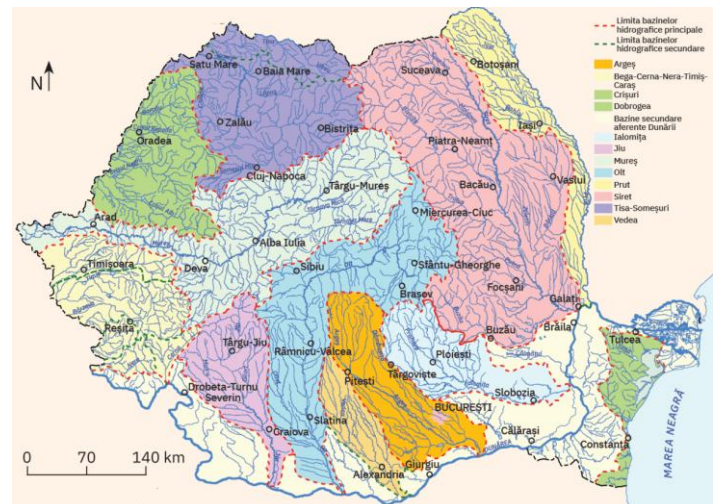


Subiectul III. Explicați importanța economică a Dunării pentru România prezentând 5 argumente în acest sens.

Subiectul IV. Prezentați doi factori care favorizează producerea inundațiilor, precum și două metode de prevenire a acestora.

Subiectul V. Precizați tipul genetic de lac pentru fiecare dintre următoarele lacuri: Geneva, Bolsena, Balaton, Sf. Ana, Como, Ladoga, Bâlea, Razim, Porțile de Fier I, Ness, Ohrid.

Subiectul VI. Harta alăturată prezintă bazinele hidrografice ale marilor râuri din România. Explicați faptul că, deși Prutul are o lungime mai mare decât a Siretului, cel din urmă are un debit mult mai mare decât Prutul.



Nume și prenume elev:

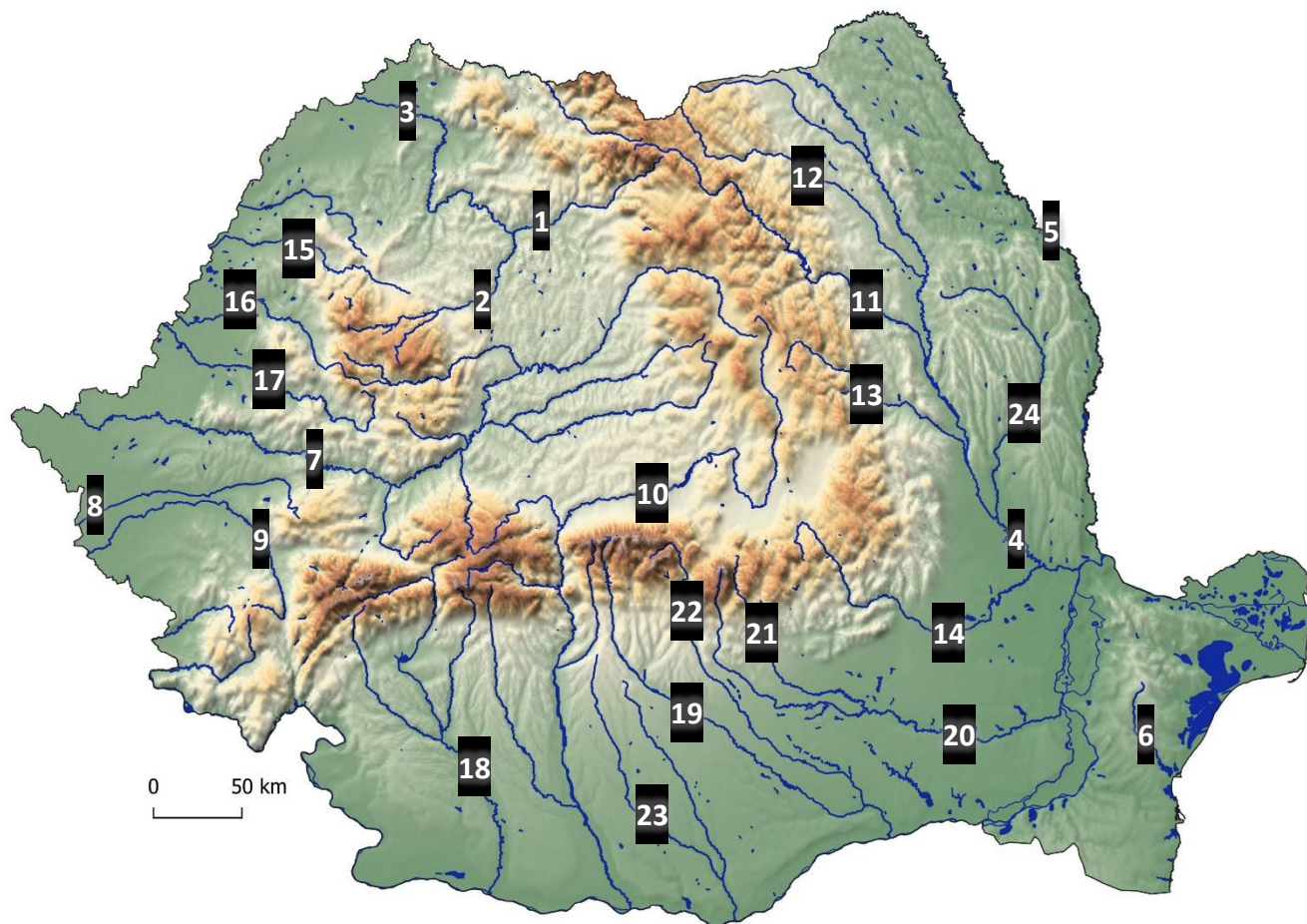
Clasa:

Data:/...../20.....

Prof. Gabriel Dascălu

Subiectul VII. Analizați harta alăturată și precizați:

1. Numele râurilor marcate cu numere de la 1 la 20;
2. Numărul cu care este marcat râul care formează defileul Toplița-Deda;
3. Numărul cu care este marcat singurul râu ce traversează de la nord la sud întregul lanț al Meridionalilor;
4. Numărul cu care este marcat râul care nu face parte din bazinul hidrografic al Dunării.



Subiectul VIII. Explicați faptul că Marea Neagră este unică în lume.